

Guía Pedagógica

Área Curricular: Geografía

Curso: 2° 2° y 2° 3°(Turno Tarde)

Docente: Roca Valeria

Eje: "Organización del espacio geográfico Americano"

Contenidos: -Características; Localización geográfica, límites, países y capitales de América.

-Diferente criterio en la denominación del continente americano.

Objetivos: \*Identificar y localizar los diferentes espacios geográficos americanos.

Capacidad a desarrollar: \*Pensamiento crítico: - Analizar e interpretar datos, evidencias y argumentos para construir juicios razonados y tomar decisiones consecuentes.

Actividades

1)-Lee y realiza un breve resumen del siguiente texto.

América en el mundo


El continente americano, con sus 42 millones de km<sup>2</sup> de extensión, se encuentra en el segundo lugar entre todos los continentes por su superficie. Le corresponde el 28% del total de las tierras emergidas y representa solo el 8% de la superficie del planeta.

El nombre de América proviene del navegante italiano Américo Vesputio, quien visitó las nuevas tierras y en sus cartas manifestó que las tierras descubiertas por Colón constituirían un "Nuevo Mundo", denominación que propuso. Por tal motivo, el continente no lleva el nombre de Cristóbal Colón, quien lo descubrió en 1492. Este nombre quedó relegado a la actual Colombia y a otros pequeños lugares del planeta. Por ejemplo, la localidad de Colón en la provincia argentina de Entre Ríos.

La posición geográfica de América en el mundo le brinda singularidades como, por ejemplo:

- América se emplaza, prácticamente por entero, en el hemisferio occidental. En efecto, salvo algunas pequeñas islas del archipiélago americano de las Aleutianas, el continente se localiza en el hemisferio definido por el meridiano de Greenwich (0° de longitud) y su respectivo antimeridiano (180° de longitud);

- América se desarrolla ampliamente en el sentido de las latitudes. Entre los puntos extremos Norte y Sur la distancia es aproximadamente de 15.500 km. En efecto, el continente americano presenta territorios tanto en la zona polar ártica como en la subpolar antártica y está atravesado por cuatro de los cinco paralelos que delimitan zonas climático-astro-nómicas. Esta singularidad otorga al continente una extraordinaria variedad de climas, lo que se refleja en las características que presentan la flora y la fauna, en la distribución de la población y en las actividades económicas;
- presenta estaciones del año opuestas entre las tierras situadas al Norte y al Sur del Ecuador. Esto permite una complementariedad en el intercambio de productos;
- América está plenamente aislada de otras masas emergidas pues está rodeada por los océanos Glacial Ártico (al Norte), Atlántico (al Este), Antártico (al Sur) y Pacífico (al Oeste). Esto da origen a un gran desarrollo costero;
- América está integrada por dos grandes masas emergidas de forma aproximadamente triangular, unidas por un istmo montañoso y volcánico, a lo que se adiciona un conjunto de guirnalda insulares. El bloque del Norte se extiende hacia el Oeste y el bloque del Sur hacia el Este. Ambos presentan semejanzas de relieve: grandes cordilleras al Oeste, macizos antiguos al Este y extensas llanuras en el centro. La distancia máxima Este-Oeste es de 7.000 km.



| SUPERFICIE DE AMÉRICA |                            |
|-----------------------|----------------------------|
| América del Norte     | 23.644.319 km <sup>2</sup> |
| América Central       | 541.561 km <sup>2</sup>    |
| América del Sur       | 232.115 km <sup>2</sup>    |
| América del Sur       | 17.815.863 km <sup>2</sup> |
| Total                 | 42.233.858 km <sup>2</sup> |

- a) -Establezca las principales características del continente americano.
- b) -Determine ventajas y desventajas de la posición geográfica de América
- c) -¿Considera que América ocupa una posición favorable? Justifique.

2) En un mapa del continente Americano marca:

a) -Países y capitales del continente Americano.

b)-Nombre y localice los océanos que lo rodean.

c)-Marque los siguientes paralelos: \*Ecuador

\*Trópico de Cáncer

\*Trópico de Capricornio

\*Círculo Polar Ártico

d)-Dibuje el contorno de la República Argentina.



### 3)-Lee el texto y explica los diferentes criterios.

## Las divisiones de América

América es un solo continente pero de todos modos es posible efectuar en él varias diferenciaciones mediante la aplicación de distintos criterios.

Desde un punto de vista geográfico, América se divide en América del Norte, Central y del Sur. La división entre América del Norte y Central coincide con el límite político entre México, Guatemala y Belice, mientras que el límite entre Panamá y Colombia divide América Central de América del Sur.

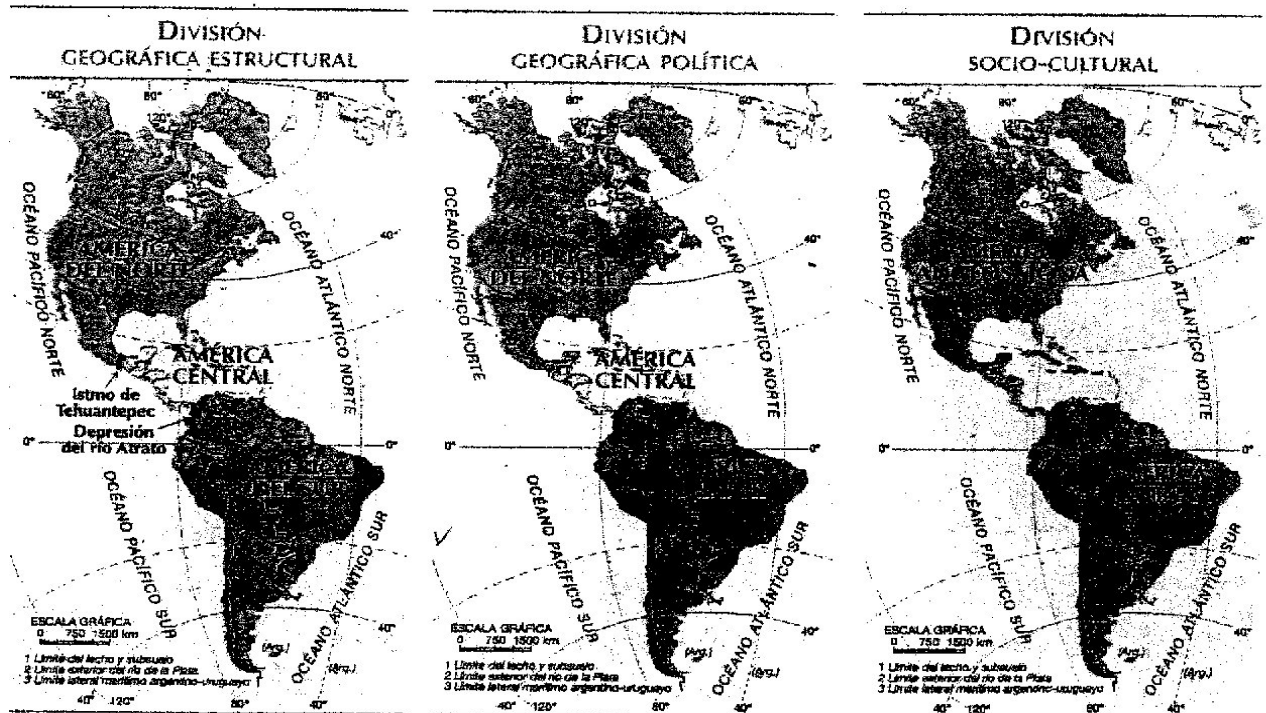
También puede establecerse esta división teniendo en cuenta un criterio geológico. De esta manera, el límite entre América del Norte y Central se encuentra en el istmo de Tehuantepec, en México. En cambio, el límite entre América Central y del Sur está representado por una línea que se apoya en dos ríos colombianos: el río Atrato, que desemboca en el mar Caribe, y el río San Juan, que desemboca en el océano Pacífico. El arco de islas localizadas en el mar Caribe también forma parte de América Central y

constituye un área del continente con gran complejidad geológica.

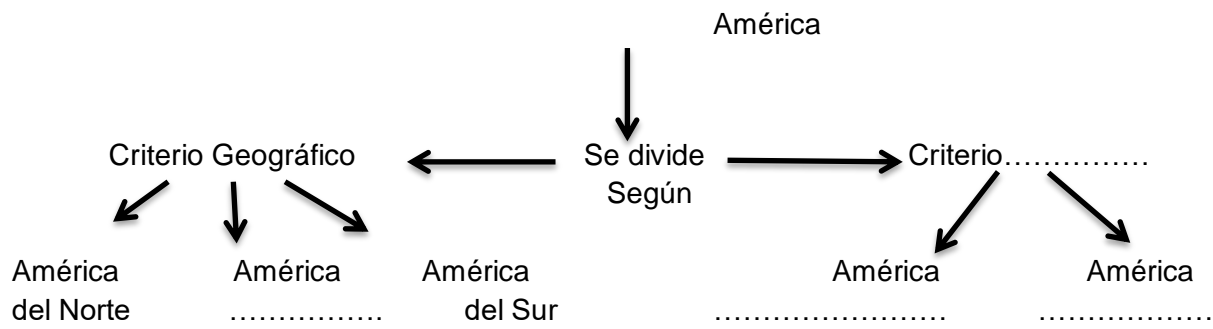
Desde un punto de vista cultural y económico se pueden diferenciar dos grandes unidades: América anglosajona en la parte septentrional y América latina en la zona meridional. Esta división atiende sobre todo a características culturales, que se ponen de manifiesto en nuestros días a través de desigualdades económicas y sociales. Otros tratadistas consideran que América latina está formada por todos los países americanos en vías de desarrollo, es decir, de la periferia del mundo, independientemente de su lengua y su cultura.

El límite entre estas dos Américas está ubicado en el río Grande, que constituye gran parte del límite internacional entre los Estados Unidos y México. América anglosajona está integrada por Canadá, Groenlandia y los Estados Unidos; el resto de América forma parte de América latina.

La denominación América latina fue acuñada por autores franceses y se impuso en la literatu-



a)- Completa el esquema.



b)- Clasifica los siguientes países teniendo en cuenta los criterios.

|                | Criterio geográfico | Criterio socio- cultural |
|----------------|---------------------|--------------------------|
| Perú           |                     |                          |
| Brasil         |                     |                          |
| Estados Unidos |                     |                          |
| México         |                     |                          |
| Argentina      |                     |                          |